





グループ2: 下の表を完成させて、( )に数字や言葉を入れなさい。



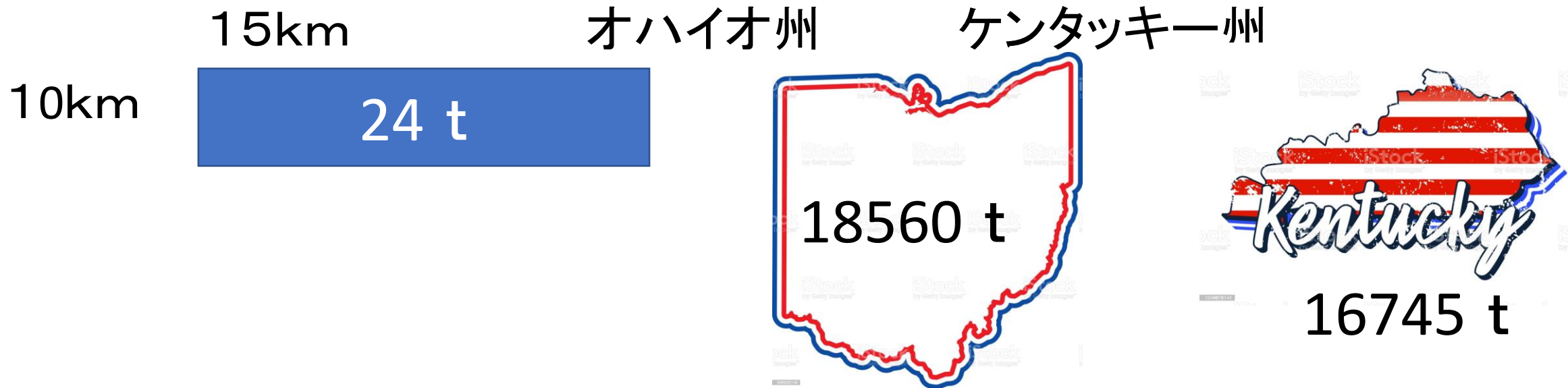
X (画用紙の重さ)					
Y (枚数)					

x が2倍、3倍になると、yも( )倍、( )倍になるから、  
yはxに( )する。

式は、 $y = ( )x$

$y = 250$ 枚のとき、 $x = ( )$ になる。

下の図を参考に、オハイオ州とケンタッキー州の面積を求めなさい。



オハイオ州の面積は、( )  $\text{km}^2$   
(式)

ケンタッキー州の面積は、( )  $\text{km}^2$   
(式)