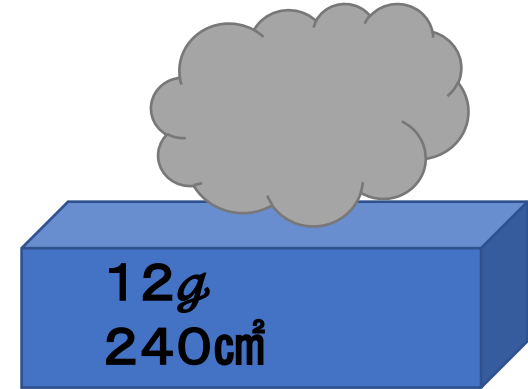
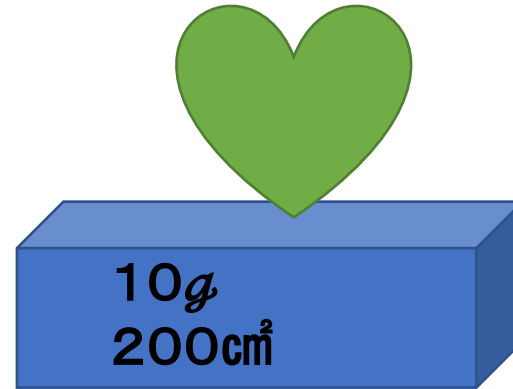
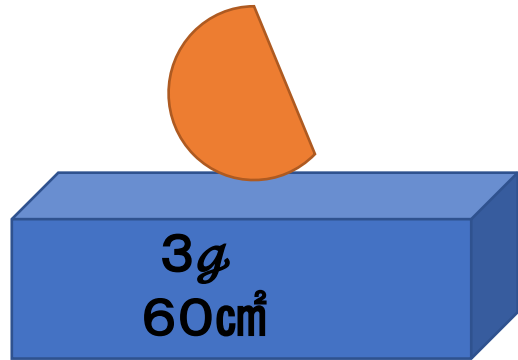


グループ3: 下の表を完成させて、()に数字や言葉を入れなさい。



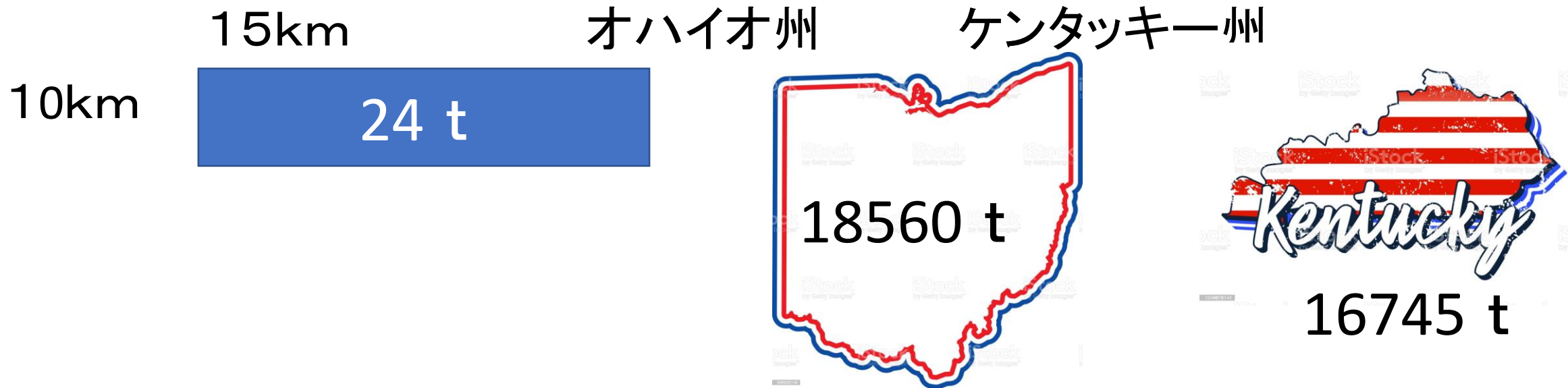
X (重さ)					
Y (面積)					

x が2倍、3倍になると、yも()倍、()倍になるから、
yはxに()する。

式は、 $y = ()x$

x = 7のとき、y = ()になる。

下の図を参考に、オハイオ州とケンタッキー州の面積を求めなさい。



オハイオ州の面積は、() km^2
(式)

ケンタッキー州の面積は、() km^2
(式)